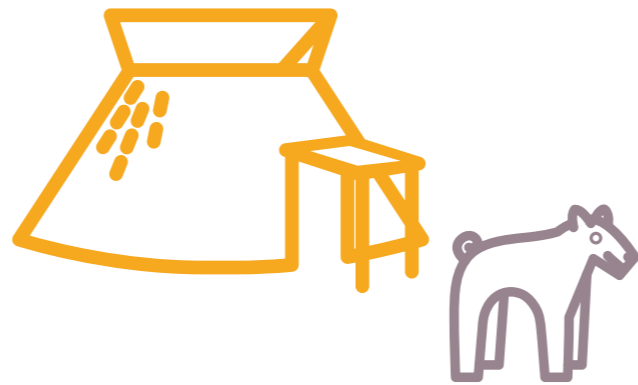



1

おお なか い せき たて あな じゅう きよ  
大中遺跡の竪穴住居は

なん とう い じょう  
何棟以上みつかった？



ヒント・<sup>かん ばん よ</sup>看板を読んでみて



2



おお なか い せき や よ い じん  
大中遺跡の弥生人は

み ぢか き  
身近にあるクヌギの木を

なに つか  
何に使った？

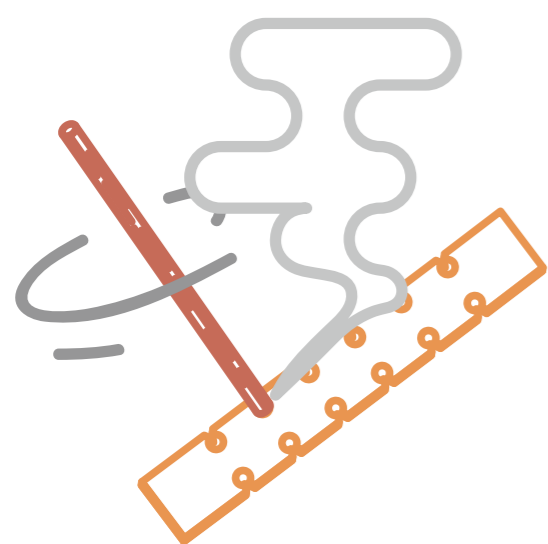


ヒント・カシは重くてとても頑丈！

3

弥生時代の人は堅くて強い

カシの木を何に使った？



A

弓

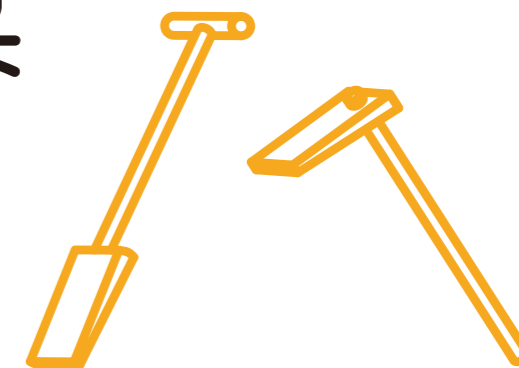


B

火おこしの道具



C

鋤 や 鍬




4

<sup>た</sup>田んぼでどのよう  
<sup>つか</sup>使う<sup>どう</sup>道具<sup>ぐ</sup>でしよう？



食べられる木の実が

なるのは？ ふたつ選んでね



Ⓐ


ヤマグリ

Ⓑ

トチ

Ⓒ

フジ



6

ぬの  
布をつくるときの繊維は  
カラムシのどこの部分？

- Ⓐ <sup>は</sup>葉    Ⓑ <sup>くき</sup>莖    Ⓒ <sup>ね</sup>根



7

ヒント：地面を観察してみてください

おお なか い せき  
大中遺跡にある

たて あな じゅう きょ はしら なん ぼん  
竪穴住居の柱は何本？



7

じゅう きょ い がい み  
の住居以外も見えてきてね！

こた  
答えはひとつじゃないよ

8

たて あな じゅう きよ え  
竪穴住居の絵を

か  
描いてみよう！



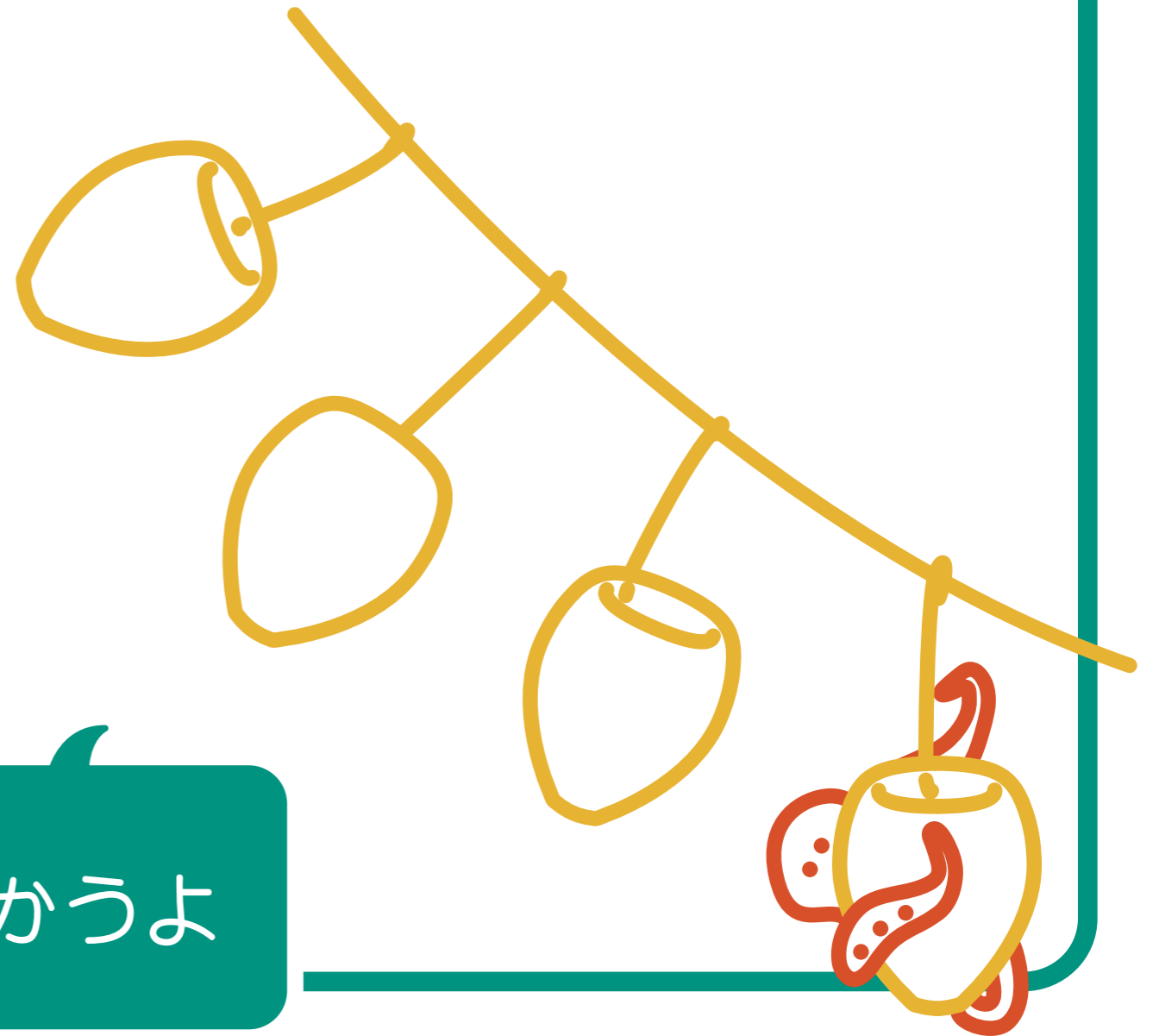


9

たて あな じゅう きよ なか  
竪穴住居の中にある

どう ぐ どう なに  
道具は何に

つか  
使うかな？



ヒント：うみ海でつかうよ

10

たて あな じゅう きよ  
この 竪穴住居の  
や ね ざい りょう なに  
屋根の材料は何？



みぎ した  
右下の3つをさわってくら  
べてみよう